

ESCOLA: _____

NOME: _____


PROFESSOR: _____ DATA: ___/___/___



ADIÇÃO




1 - Arme e efetue.




$25 + 4 =$

D	U




$16 + 12 =$

D	U




$22 + 6 =$

D	U




$31 + 8 =$

D	U




$26 + 2 =$

D	U




$17 + 1 =$

D	U



$30 + 9 =$

D	U



$22 + 9 =$

D	U

2 - Resolva o problema abaixo.

Em seu aniversário, Gustavo ganhou 3 carrinhos, 2 bolas e 10 jogos de tabuleiro.

Quantos brinquedos Gustavo ganhou?

Resposta: Gustavo ganhou _____ brinquedos.